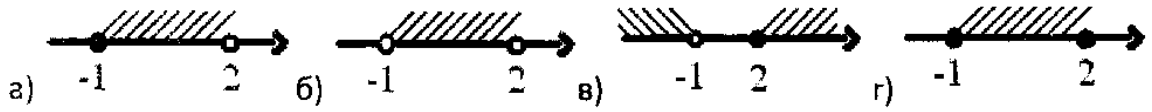


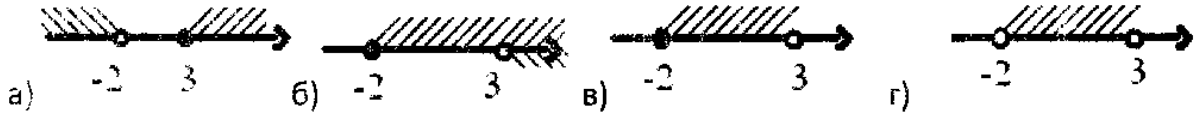
Тест №1

При выполнении заданий выберите иллюстрацию, соответствующую промежутку или решению неравенства или системе неравенств.

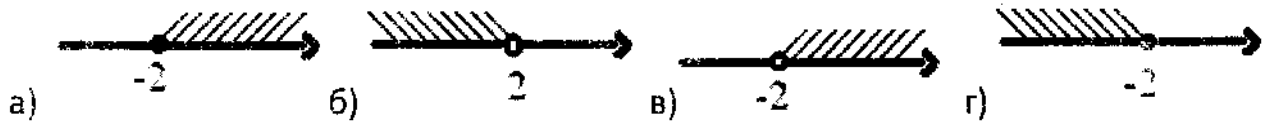
1) $[1;2]$



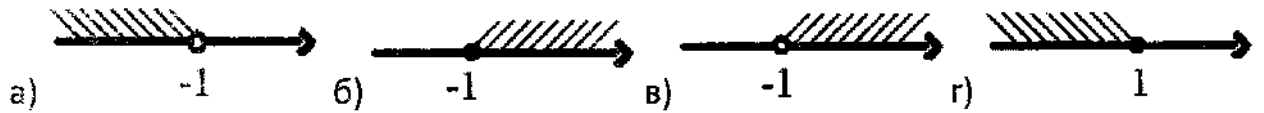
2) $-2 \leq x \leq 3$



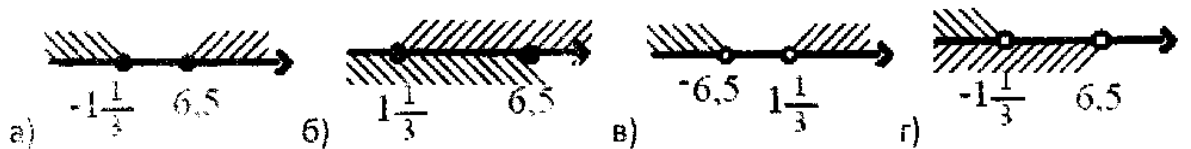
3) $8x > -16$



4) $x + 4 < 12 + 9x$



5) $\begin{cases} 4x - 3 < 2x + 10 \\ 7 - 2x > x + 11 \end{cases}$



6) $8 \leq 3x - 1 \leq 14$

